

La Oferta y la Demanda son elementos de un libre mercado



MICROECONOMÍA

OFERTA

TRABAJO PRÁCTICO N°8

MATERIA: MICROECONOMÍA

CURSOS: 4°1, 4°2, 4°3, 4°4 Y 4°5

OFERTA



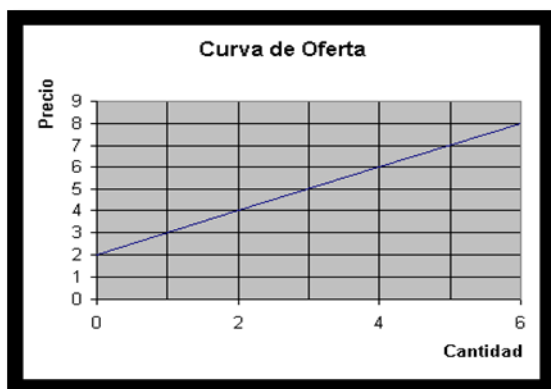
Según señalamos al hablar de la demanda, la oferta no puede considerarse como una cantidad fija, sino como una relación entre cantidad ofrecida y el precio al cual dicha cantidad se ofrece en el mercado.

Función de oferta de un bien o servicio: son las distintas cantidades que una empresa o grupo de personas desean y están en condiciones de producir y vender, a distintos precios alternativos en un mercado y en un periodo de tiempo determinado.

CURVA DE LA OFERTA



En este sentido, la curva de la empresa o de la industria es la representación gráfica de la tabla de oferta respectiva, y muestra las cantidades del bien que se ofrecerán a la venta durante el período de tiempo específico a diversos precios de mercado. Esta curva suele tener pendiente positiva.



La curva de oferta, pues, muestra la relación entre el precio y cantidad ofrecida. A cada precio PA le corresponde una cantidad ofrecida QA , y uniendo los distintos puntos (PA, QA) obtenemos la curva de oferta. Es decir que a precios más altos vamos a estar

dispuestos a ofrecer más y a precios más bajos ofrecemos menos.

FACTORES DETERMINANTES DE LA OFERTA

Hay algunos elementos que hacen a la determinación del nivel de oferta, atendiendo a la regla general de que cuanto mayor es la oferta (a igual demanda) menor será el precio, y cuando la oferta sea menor el precio subirá.



TECNOLOGÍA

Una nueva forma de producir puede aumentar la cantidad con el mismo nivel de esfuerzo.

LOS COSTOS DE LOS FACTORES

Que como se ha dicho hacen crecer la cantidad que se deberá buscar para compensar la oferta.

NÚMERO DE OFERENTES

Si son más las empresas mayor nivel de oferta existirá.

LAS EXPECTATIVAS

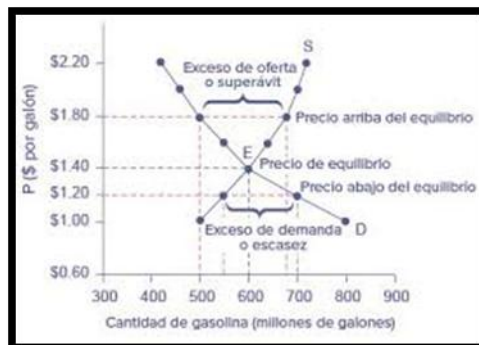
Ya que los precios y las cantidades experimentan una trayectoria dinámica, y muchas operaciones pueden hacerse tanto en un momento como el otro.

EL CLIMA

En los productos agrícolas, el **clima** es un determinante de la oferta.

EQUILIBRIO DEL MERCADO

El Equilibrio del Mercado se genera cuando la Oferta y la Demanda se encuentran balanceadas. Esto es cuando la cantidad de ofertantes de un determinado bien o servicio están dispuestos a producir y ofrecer a un determinado precio que coincide con la que los demandantes están dispuestos a consumir.



EXCESO DE OFERTA Y EXCESO DE DEMANDA

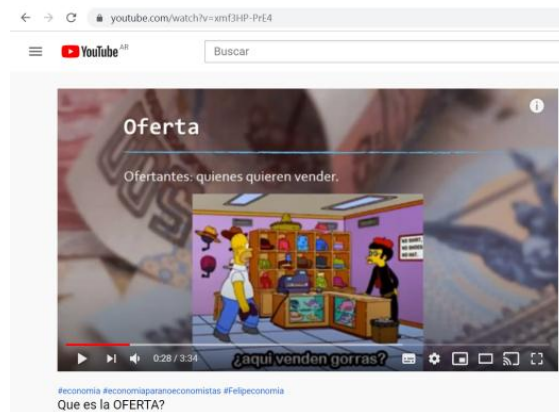
En economía se entiende por **exceso de oferta** cuando en un mercado la cantidad ofrecida de un bien, o el servicio, es mayor a la cantidad demandada de este. En general esto sucede cuando el precio de mercado es superior al nivel de equilibrio determinado por oferta y demanda, es decir, cuando las curvas de oferta y demanda se igualan. Esto es lo opuesto a un exceso de demanda.



ACTIVIDADES



1_ Observar el siguiente video <https://www.youtube.com/watch?v=xmf3HP-PrE4>



- ¿Quiénes son los oferentes?
- ¿A mayor precio más o menos se ofrece? ¿Por qué?

2_ Observar detenidamente el siguiente video: <https://www.youtube.com/watch?v=KWC-hQGw-3c>



- ¿Es lo mismo el equilibrio de mercado que el equilibrio de la demanda? ¿Por qué?
- ¿Qué pasa cuando hay un exceso de oferta y cuando hay un exceso de demanda, que es lo que hay que hacer en cada caso para alcanzar el

punto de equilibrio?



3_ Mariana quiere comprar una lapicera...



¿Cuántos de ustedes estarían dispuestos a venderle una que no utilicen, sabiendo que ella está dispuesta a pagar determinados precios?

- ✓ Si ella está dispuesta a pagar a \$10, solo 1 chico le vendería su lapicera
- ✓ Si está dispuesta a gastar \$40, 3 chicos estarían dispuestos a venderle su lapicera.
- ✓ Si Mariana está dispuesta a pagar por la lapicera que quiere \$70, a los 5 chicos les gustaría vender su lapicera.

a_ Con estos datos deberán:

- ✚ Construir la curva de la oferta y explicar.
- ✚ ¿Es creciente o decreciente? ¿Por qué?
- ✚ Cuáles pueden ser las variables que pueden afectar a la oferta que no sean el precio? (ejemplificar).

4_ Marcar la opción correcta

Si el Almacén Don Pepe vende Vinos en el mercado local ¿a qué nos estamos refiriendo?

- Demanda
- Oferta
- No sabe

b) Si Don Lautaro Vargas compra Vinos Malbec para su consumo personal ¿a qué nos estamos refiriendo?

- Oferta
- Demanda
- No sabe

c) Si en el camino de la entrega de los vinos al Almacén Don Pepe se corta ruta ¿qué pasa con los precios de dichos vinos?

- Aumentan
- Disminuyen
- No hay variación
- No sabe

d) Si en cae mucha piedra en la Zona de San José ¿qué pasa con los precios de dichos vinos?

- Aumentan
- Disminuyen
- No hay variación
- No sabe

e) Si hay sobre producción de Vinos Malbec ¿qué pasa con los precios de dichos vinos?

- Aumentan
- Disminuyen
- No hay variación
- No sabe

f) Si cae piedra en la Zona de San José ¿va haber?

- Poca demanda
- Mucha oferta
- Mucha demanda

Poca oferta

No sabe

g) Si el año 2019 fue donde hubo grandes cantidades de cosecha de Vino Malbec ¿va haber?

Poca demanda

Mucha oferta

Mucha demanda

Poca oferta

No sabe

h) Si en el año 2019 fue un año poca producción de Vino Malbec ¿va haber?

Gran consumo de otros tipos de Vinos

Grandes consumos de Jugos Saborizados

No hay variación

No sabe

i) Si en el año 2019 fue un año hubo mucha producción de Vino Malbec ¿va haber?

Gran consumo de otros tipos de Vinos

Grandes consumos de Vino Malbec

Gran consumo de Jugos Saborizados

No sabe